

Расселова А.


Всероссийская олимпиада школьников по истории, 2023-2024 гг.
Школьный этап
Время выполнения – 45 минут

Задание 1. Соотнесите названия вспомогательных исторических дисциплин с предметом их изучения.

А)




Б)




В)




Г)



Д)



Е)



Каждой науке подберите изображение с объектом её изучения. Ответы в виде буквы впишите в таблицу.

1. Нумизматика	В	<p>60</p> <p>Максимум за задание – 6 баллов. За каждую верную пару - 1 балл.</p>
2. Геральдика	Г	
3. Археология	А	
4. Генеалогия	Д	
5. Антропология	Е	
6. Эпиграфика	Б	

Задание 2. Прочитайте два фрагмента текста, описывающих результаты раскопок на месте стоянок древнейших людей, и выполните задание.

А. Найдены каменные рубила, скребла и другие орудия труда, изготавливаемые путем обивки крупных камней. Обнаружены остатки костей животных, однако их

сравнительно мало: судя по всему, основным занятием обитателей данной стоянки было собирательство, а не охота.

Б. Среди найденных орудий труда имеются каменные топоры, скребки, наконечники для копий и стрел. Обнаружены захоронения, свидетельствующие о наличии у обитателей стоянки определённых ритуалов, связанных с погребением сородичей: скелеты похороненных людей лежат в определенной позе, похожей на положение спящего человека.

В каком тексте описана стоянка, принадлежавшая людям, которые находились на более высокой ступени развития?

Запишите в ответе соответствующую букву. Объясните, почему вы выбрали этот фрагмент.

Ответ: Д. Потому что древней здесь можно заметить ритуалом похороненных людей, они лежат в определенной позе, похожей на положение спящего человека.

Максимум за задание – 5 баллов: 2 балла – за правильно выбранный фрагмент, 3 балла – за правильное обоснование.

Задание 3. Из приведённого ниже списка характеристик выберите те, которые относятся к родовой общине.

1. Все члены общины – соседи, но не родственники.
2. Каждая семья обрабатывает свой участок земли.
3. Во главе стоят старейшины – самые опытные и мудрые.
4. Во главе стоят самые богатые люди.
5. Дележка урожая и добычи поровну.
6. Все важные вопросы решают богатые люди.
7. Каждая семья живет в своем маленьком доме.
8. Все важные вопросы решаются на общем собрании.
9. Каждый добывает пищу для себя сам и не делится ни с кем.
10. Общие большие дома.

Максимум за задание – 3 балла:
- 2 балла при наличии одной ошибки;
- 1 балл – две ошибки;
- 0 баллов в остальных случаях.

Ответ запишите цифрами: 3, 5, 8.

Задание 4. Что объединяет три из четырёх понятий, какое является лишним? Свой ответ объясните.

4.1. Та-Кемет, дар Нила, тотемизм, Черная земля;

Лишнее: Тотемизм.

Что объединяет данный ряд? Это было в Египте.

4.2. Остроконечник, рубило, шадуф, каменный топор;

Лишнее: Шадуф.

Что объединяет данный ряд? Эти вещи использовались для охоты

Древние люди.

4.3. Собираательство, охота, скотоводство, рыболовство.

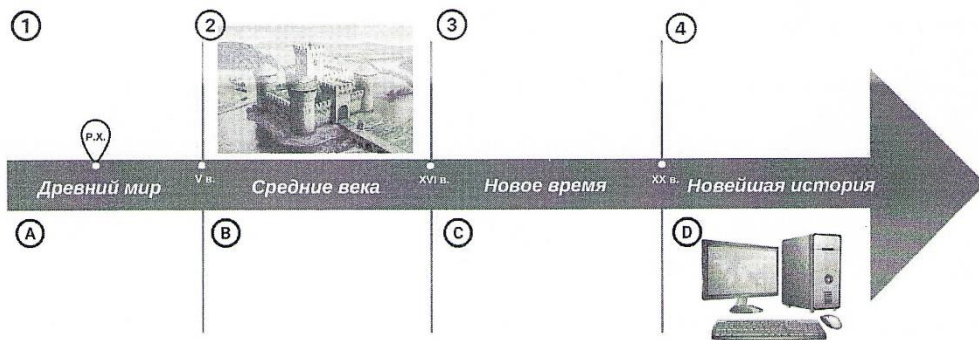
Лишнее: скотоводство.

Что объединяет данный ряд? зачатки древних людей.


За каждое верно выбранное понятие - 1 балл. За каждое верное объяснение - 1 балл. Максимум за задание - 6 баллов.

Задание 5. Лента времени - это временная шкала, на которую в хронологической последовательности наносятся различные события. Таким образом мы можем получить иллюстрированную историю развития событий.

В исторической науке принято делить всю историю человечества на четыре основных периода: Древний мир, Средние века, Новое время и Новейшая история.



5.1. Перед вами иллюстрации различных исторических эпох. Внимательно рассмотрите их и соотнесите с той исторической эпохой, которую они иллюстрируют.




Ответы в виде букв впишите в таблицу:


1. Древний мир	<u>В</u>
2. Средние века	<u>Г</u>
3. Новое время	<u>Б</u>
4. Новейшая история	<u>А</u>

5.2. Перед вами изображения орудий труда человека, созданные им в разное время. Расположите представленные предметы в соответствии с эпохой, когда они были изобретены.

А.




Б.



В.



Г.



Ответы в виде букв впишите в таблицу:

1. Древний мир	Б
2. Средние века	Г
3. Новое время	А
4. Новейшая история	В

За каждое верное соответствие - 1 балл. Максимум за задание - 6 баллов.

Задание 6. Решите хронологическую задачу. Обязательно приведите необходимые расчёты и запишите ответ.

Знаменитый полководец древности Александр Македонский родился в 356 г. до н.э., а умер, когда ему было 33 года.

6.1. Подсчитайте, в каком году умер Александр Македонский?

389 г.

6.2. Сколько лет назад родился Александр Македонский?

1664

Максимум за задание - 4 балла. За каждый верный ответ - 2 балла.

Максимум за работу - 30 баллов

225
подсчитано